



6. SINIF


YAZILI SORULARI - 1

Adı-Soyadı:

.....

Sınıfı: 6/..... No:

1.



Yukarıda Güneş Sistemine ait bir görsel verilmiştir. Görsele göre aşağıdaki soruları cevaplayınız.

A) Gezegenleri Güneş'e yakınlıklarına göre sıralayınız. (5 p)

.....

B) Gezegenleri büyükten küçüğe sıralayınız. (5 p)

.....

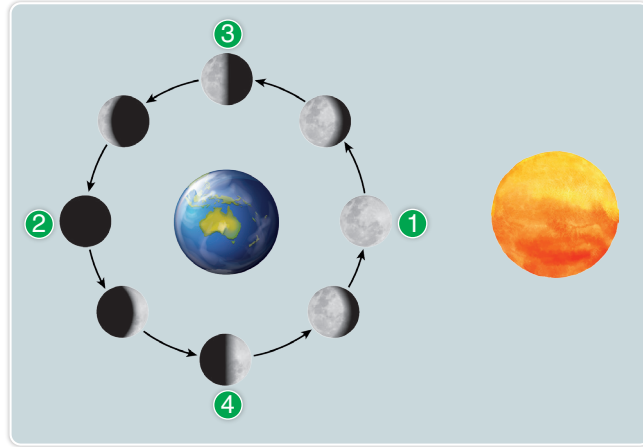
C) Gezegenleri gazsal ve karasal olarak sınıflandırınız. (5 p)

.....

D) Hangi gezegenlerin halkası vardır yazınız. (5 p)

.....

2.



Verilen soruları yukarıdaki şekle göre cevaplayınız.

A) Güneş tutulması Ay'ın kaç numaralı konumunda gerçekleşir. Güneş tutulması ile ilgili bilgiler veriniz. (10 p)

.....

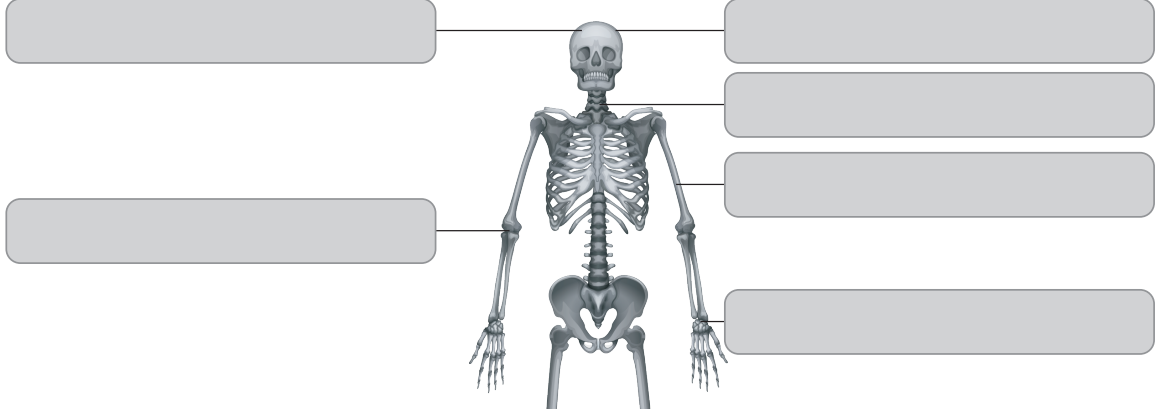
B) Ay tutulması Ay'ın hangi konumunda gerçekleşir. Ay tutulması ile ilgili bilgiler veriniz. (10 p)

.....

3. Aşağıda verilen iskelet görseli üzerinde ;

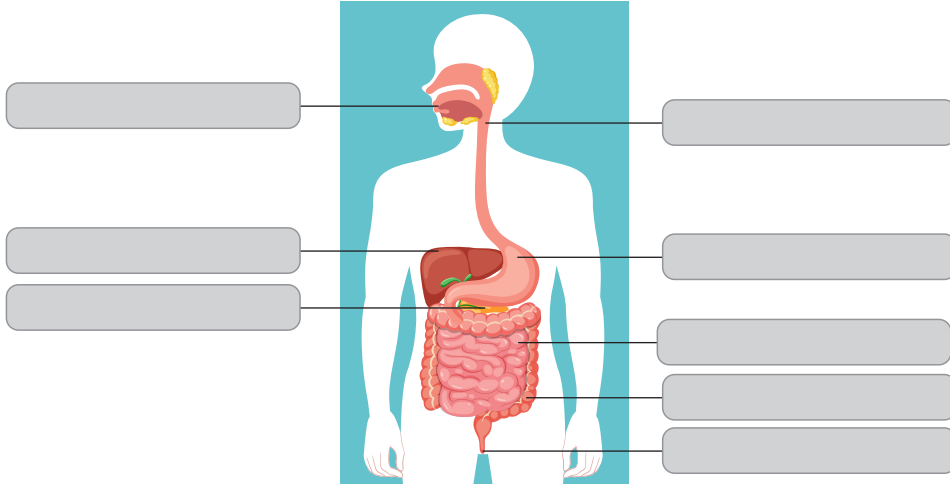
a) Uzun, kısa ve yassı kemiklere örnek gösteriniz? (10 p)

b) Oynar, yarıoynar ve oynamaz eklemlere örnek gösteriniz? (10 p)



4. A) Aşağıdaki görsel üzerinde sindirim sistemini oluşturan yapı ve organları göstererek yazınız? (10 p)

B) Aşağıdaki görsel üzerinde sindirim sistemine yardımcı organları göstererek yazınız? (10 p)



5. Kan dolaşımını gösteren şekil üzerindeki yapıların isimlerini yazınız? (20 p)

